



Je m'entraîne




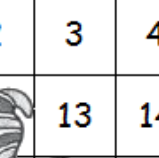

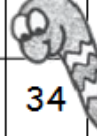






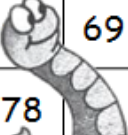
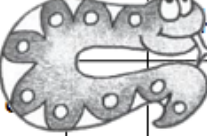


Numération

Révisions pour les classes de P2
Madame Delphine et Madame Damonie


Prénom : _____

Date : _____


→ Le carré de 100 : Complète les morceaux du carré de 100. (Regarde l'exemple)


1	2	3	4	5	6	7		9	10
11		13	14		16	17			
21				25	26		28	29	
31	32	33	34		36		38	39	40
41	42		44	45		48			
		53		55	56	57	58		
61	62	63	64	65	66	67		69	70
71					76	77	78		80
81						86	87		90
91	92	93	94				98	99	100


12	
22	23


	


	
--	---


		


		

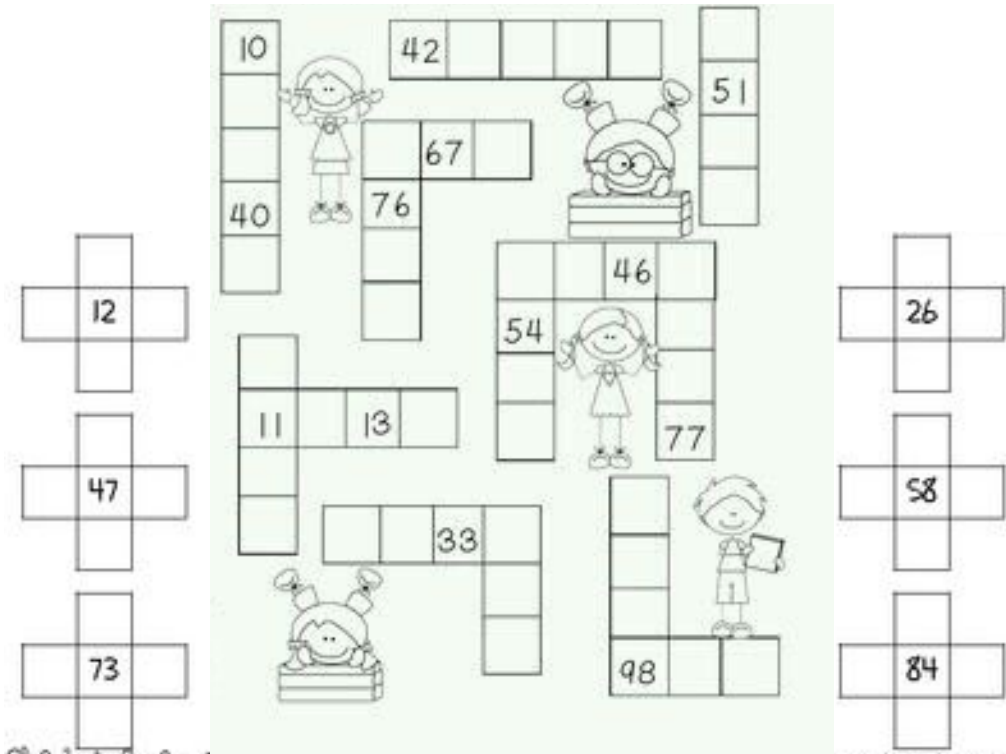
	



→ Complète par la dizaine ronde d'avant et d'après le nombre.

(La dizaine ronde est une dizaine sans ses unités : 30, 40, ...)

40	46	50
----	----	----

	32	
--	----	--

	78	
--	----	--

	93	
--	----	--

	14	
--	----	--

	51	
--	----	--

	22	
--	----	--

	67	
--	----	--

→ Voici un nombre, complète la fiche.

(Pour dessiner le nombre, organise-le. Recopie le nom du nombre en cursive. Colorie s'il est pair ou impair)

En chiffres :

--

Écris en lettres :

vingt-deux

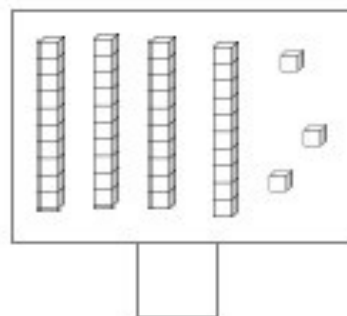
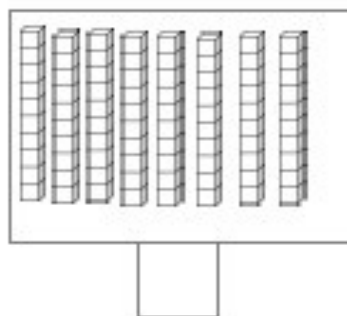
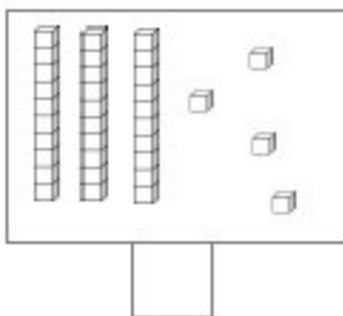
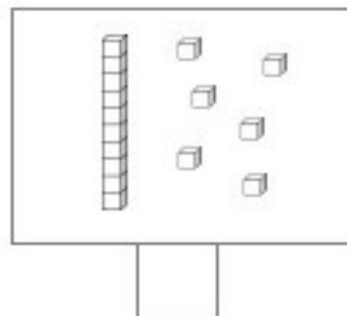
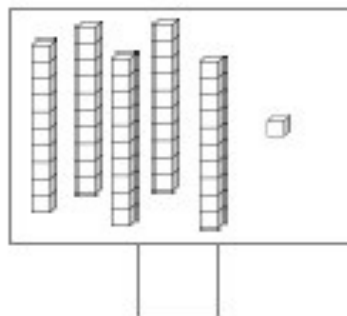
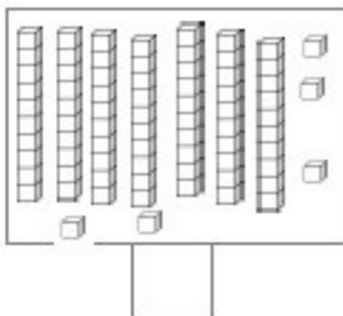
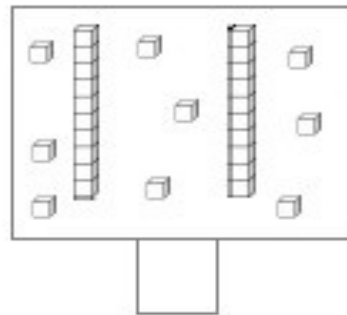
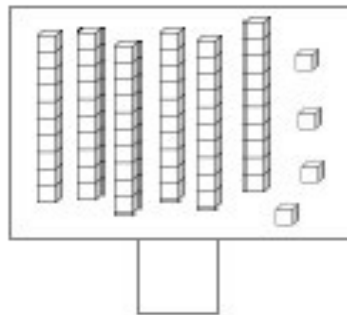
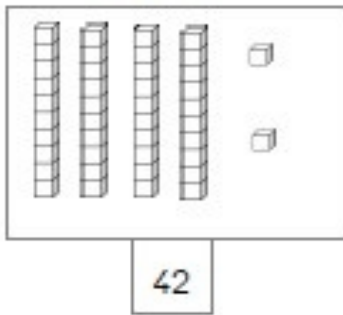
.....

Dessine le nombre :

--



→ Rapidement, sans compter les cubes, trouve le nombre qui est illustré.



→ Trouve le bon nombre :

4 dizaines et 2 unités	<input type="checkbox"/>
------------------------	--------------------------

5 dizaines	<input type="checkbox"/>
------------	--------------------------

4 unités et 2 dizaines	<input type="checkbox"/>
------------------------	--------------------------

8 unités et 0 dizaine	<input type="checkbox"/>
-----------------------	--------------------------

56 unités	<input type="checkbox"/>
-----------	--------------------------

7 dizaines et 5 unités	<input type="checkbox"/>
------------------------	--------------------------

→ A toi de me dire combien de dizaines et combien d'unités a le nombre.

..... dizaines et unités	56
--------------------------------	----

..... dizaines et unités	6
--------------------------------	---

..... dizaines et unités	29
--------------------------------	----

..... dizaines et unités	42
--------------------------------	----

..... dizaines et unités	80
--------------------------------	----

..... dizaines et unités	100
--------------------------------	-----

→ L'ordre des choses : complète les phrases avec le nom du bon personnage.



..... est le premier. est au milieu.
.....est le quatrième. est la seconde.
.....est la dernière. est l'avant-dernier.

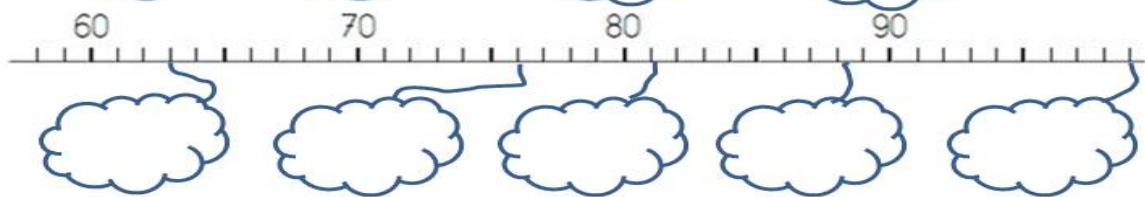
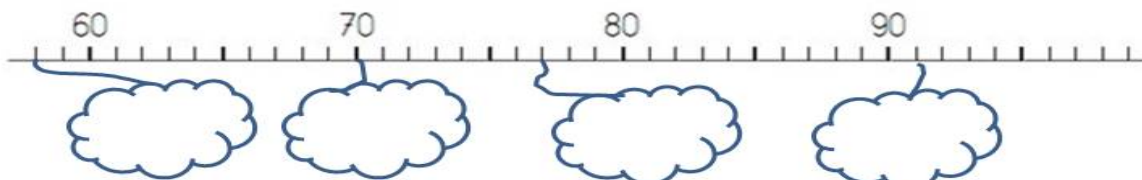
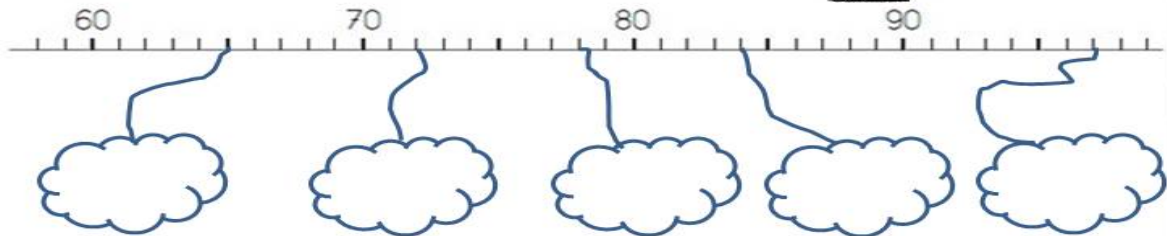
→ A toi : (Ecris la position du personnage en chiffre comme par exemple 3^e)

La danseuse est la	Le cosmonaute est le	Le clown est le
L'extraterrestre est le	La fée est la	L'indien est le

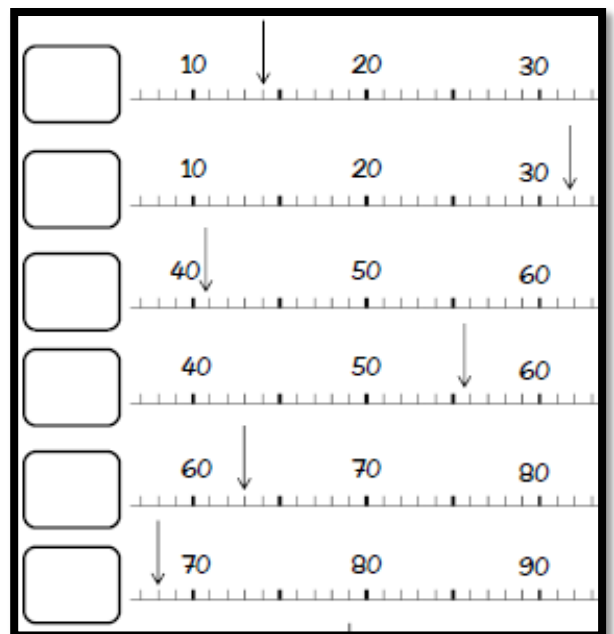
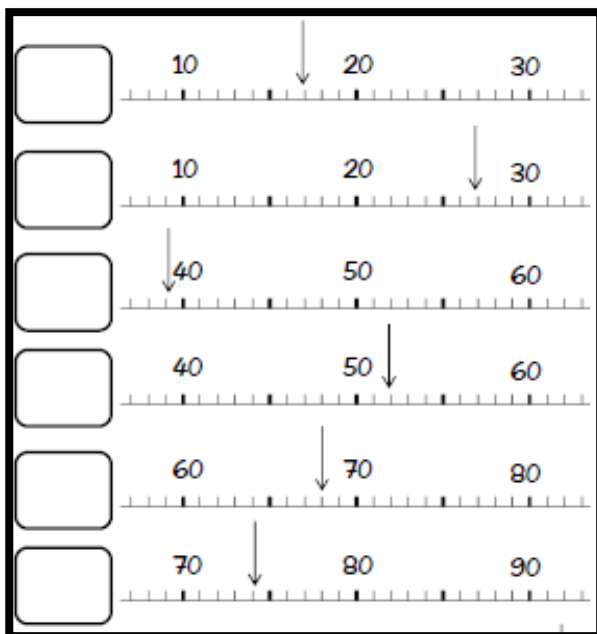
→ Complète les droites des nombres :



Complète chaque nuage en t'aidant des nombres déjà sur la ligne graduée.



→ Ecris le nombre montré par la flèche :



→ Voici un nombre, complète la fiche.

(Pour dessiner le nombre, organise-le. Recopie le nom du nombre en cursive. Colorie s'il est pair ou impair)

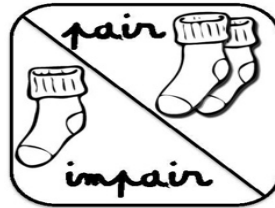
En chiffres :

Écris en lettres :

quarante-six

.....

Dessine le nombre :



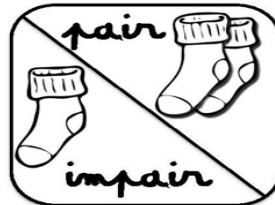
En chiffres :

Écris en lettres :

nonante-sept

.....

Dessine le nombre :



En chiffres :

Écris en lettres :

septante-trois

.....

Dessine le nombre :

